

Correction Fiche de travail n°9

1. Français :

Exercice 2 :

- Dans le texte, entoure les verbes et souligne les sujets.
- Transpose ce texte à l'imparfait :

Il est devant la fenêtre, emmitouflé dans une couverture, et il observe le

Il était devant la fenêtre, emmitouflé dans une couverture, et il observait le

village avec les jumelles de son père. C'est son jeu préféré depuis deux jours.

village avec les jumelles de son père. C'était son jeu préféré depuis deux jours.

Ces jumelles sont épatantes. *Ces jumelles étaient épatantes.*

Elles grossissent tellement qu'on peut deviner ce que disent les gens.

Elles grossissaient tellement qu'on pouvait deviner ce que disaient les gens.

Lecture :

1- Que font les enfants le soir ?

Le soir, Claudette regarde la télévision pendant que Philippe mont la garde à la fenêtre.

2- Qu'est-ce que Claudette va faire ?

Claudette va rechercher le télégramme dans la poubelle des voisins.

3- Qu'est ce qui est écrit sur le télégramme ?

Il est écrit : "Liqueur de Daquin. Stop. Renseignements chez Lucienne. Stop."

4- Pourquoi Philippe se gratte-t-il la tête ?

Philippe se gratte la tête parce qu'il réfléchit à la signification du message sur le télégramme.

5- Qui dit la phrase : « Oui.. Mais, Lucienne alors, qui c'est ? »

C'est Philippe qui prononce cette phrase.

6- Qui est Philou ?

Philou est le surnom de Philippe.

7- De quoi parle-t-on à la télé ? Qu'apprend-on sur le gangster ?

A la télé, on montre le portrait-robot du gangster : il a des cheveux en brosse et une grosse cicatrice sur la figure.

8- Selon le journaliste, où a été vu le gangster ?

Le journaliste dit que le gangster a été aperçu dans la banlieue de Clermont-Ferrand.

9- Où habitent les enfants ?

Les enfants n'habitent pas loin de l'endroit où a été aperçu le gangster.

10- Que fait Philippe dans la nuit ?

Dans la nuit, Philippe reprend les jumelles et s'installe dans son fauteuil vers la fenêtre et observe ce qui se passe dans la villa d'en face.

11- Explique ce qu'il y a sur les diapositives ?

Sur les diapositives, il voit des photos d'un modèle réduit de train, un panneau routier et le viaduc qui est à la sortie du village. Sur le milieu du viaduc, une croix a été dessinée.

Orthographe :

Dictée C

Les jumelles étaient épatantes, on pouvait deviner ce que les gens d'en face disaient.

Production d'écrits :

1/ De quelle femme va-t-on nous raconter l'histoire ?

Nzinga

2/ En quelle année est-elle née ?

1583

3/ Sur quel royaume règne son père ?

Le NDongo

4/ Où se situe ce royaume ?

En Afrique de l'ouest

5/Son père lui transmet son savoir. Où l'emmène-t-il ?

Au combat contre les portugais

6/ Qui reprend le royaume à la mort du roi ?

Son frère Mbandi

7/ Comment se comporte-t-il alors avec sa sœur ?

Il éloigne Nzinga du pouvoir.

8/ Mais il va avoir besoin d'elle. Où l'envoie-t-il ?

Négocier un pacte avec les Portugais.

9/ Que va-t-elle obtenir ?

La signature du pacte.

10/Qu'arrive-t-il à la même époque à son frère ?

Il meurt.

11/ Comment Nzinga se fait alors appeler ?

Reine du Ndongo

12/ Jusqu'à quel âge va-t-elle combattre avec ses armées ?

Jusqu'à plus de 60 ans

13/ A quel âge meurt Nzinga ?

A presque 80 ans

Retrouve l'année de sa mort .

1663

2. Mathématiques :

Calcul mental (pour ceux qui ont travaillé sur la fiche "sans ordinateur")

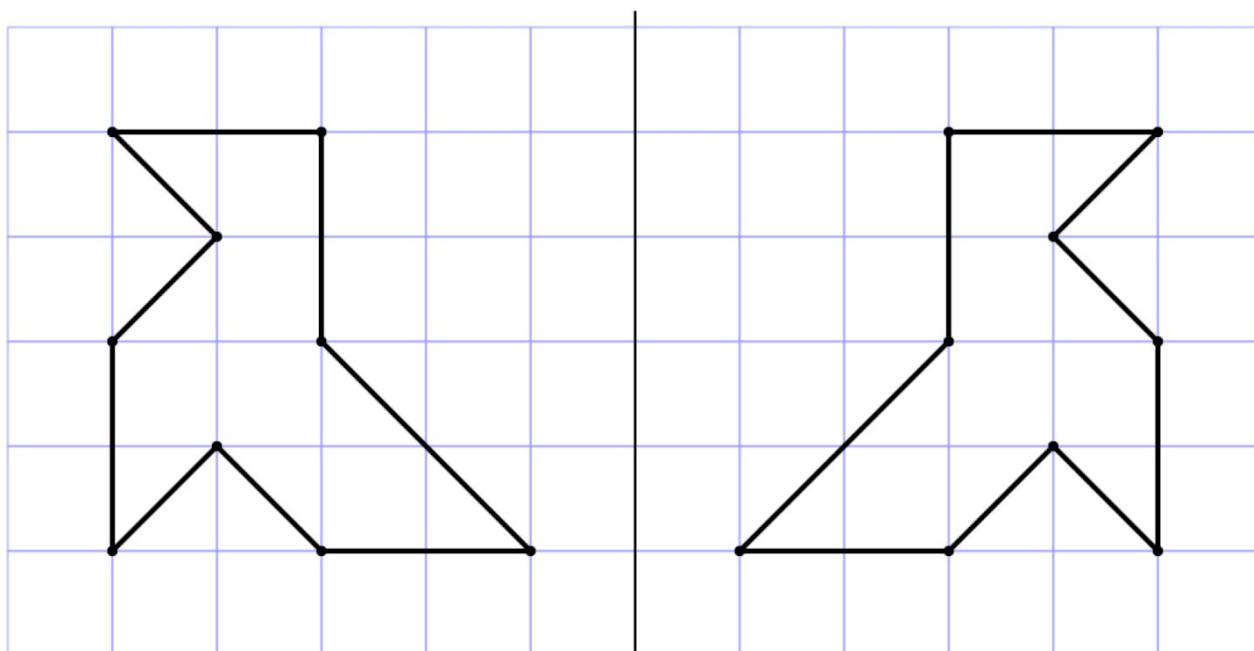
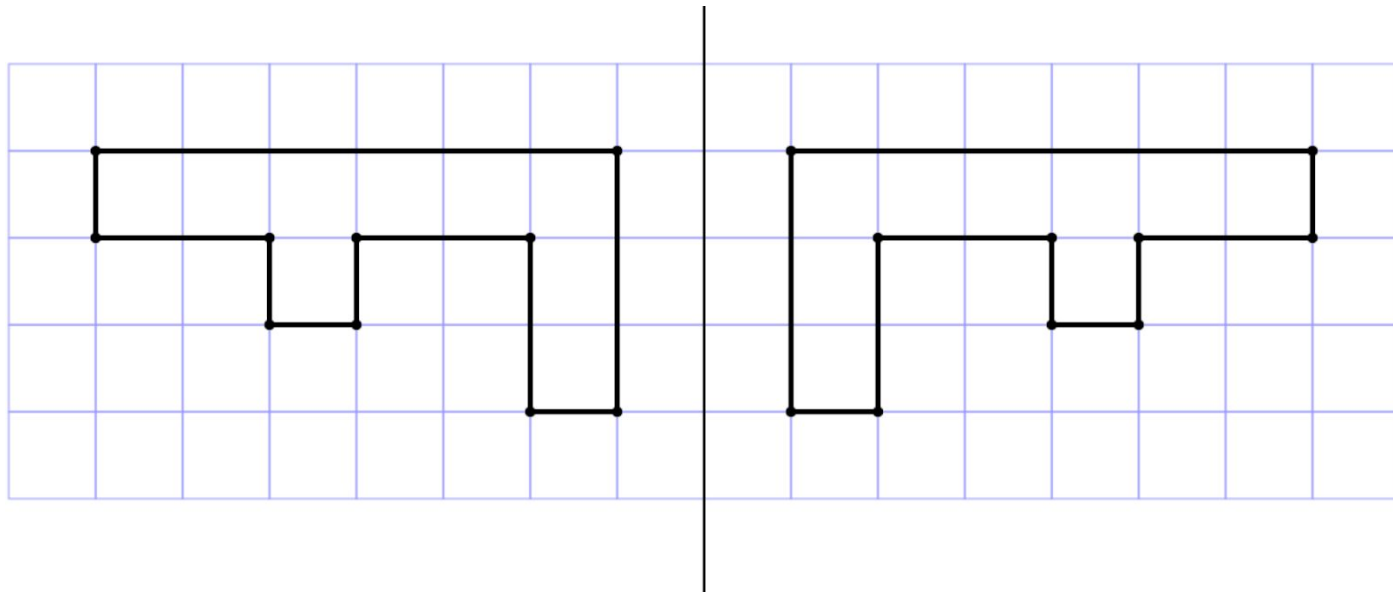
1/ Dans une année, il y a 36 semaines d'école. Dans une semaine, il y a 4 jours d'école. *Combien de jours d'école par an cela fait-il ?* $36 \times 4 = 144$

2/ Céline a acheté 60 cartes et veut les distribuer à ses 4 copines. *Combien de cartes recevra chacune d'entre elles ?* $60 : 4 = 15$ ($60 : 2 = 30 : 2 = 15$)

3/ A chaque fois qu'il gagne une partie dans un jeu, Chris reçoit 4 pépites.

Combien de parties doit-il gagner pour obtenir 24 pépites ? $\dots \times 4 = 24 / 6$ parties

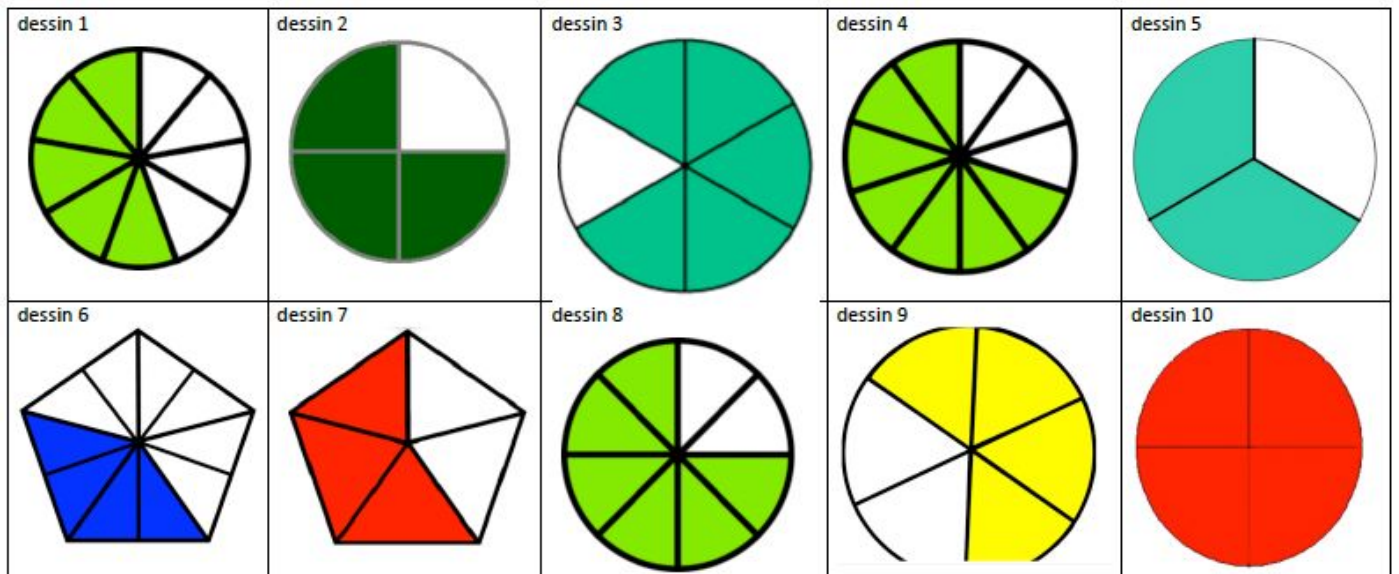
Géométrie : symétrie



Numération : Les fractions

8/12 3/8 3/4 5/8 3/5 5/10

3/4



Premier dessin : $\frac{5}{9}$

Deuxième dessin : $\frac{3}{4}$

Troisième dessin : $\frac{5}{6}$

Quatrième dessin : $\frac{7}{10}$

Cinquième dessin : $\frac{2}{3}$

Sixième dessin : $\frac{4}{10}$

Septième dessin : $\frac{3}{5}$

Huitième dessin : $\frac{6}{8}$

Neuvième dessin : $\frac{4}{6}$

Dixième dessin : $\frac{4}{4} (=1)$

Problèmes :

CM1

Problème n°22 : $120 - 40 = 80$

Manon avait 80 euros avant le cadeau de sa grand-mère.

Problème n°23 : $10 - 4 = 6$

Son bureau est au 6ème étage.

Problème n°24 : $35 + 7 = 42$

Avant la récréation, il avait 42 billes.

CM2

Problème n°22 : $6\ 567 - 6\ 455 = 112$

Cet éléphant pesait 112 kg à la naissance.

Problème n°23 : $22 - 9 = 13$

Le bureau de M. Durand est au 13ème étage.

Problème n°24 : $190\ 739 + 589 = 191\ 328$

Avant le tri, la médiathèque proposait 191 328 documents.

3. Anglais :



4. Histoire :


CM1 : La vie au temps des gaulois

a- Quels matériaux étaient utilisés par les gaulois pour construire leurs fermes ?

- 1- du bois (pour la structure) pour les murs
- 2- de la terre (torchis) pour les murs
- 3- de la chaume (paille) pour le toit

b- Les 2 personnages qui tiennent des sacs vont les déposer dans :

- dans leur maison
- dans un grenier en hauteur pour garder la nourriture à l'abri des animaux, pluie...



A l'aide des 4 réponses aux questions a et b, écris la légende des cadres :

1. du bois 2. de la terre 3 de la chaume 4. un grenier

CM2 : Louis XIV

Louis naît en **1638**. Il est le fils de Louis **XIII** et d'Anne **d'Autriche**.
À la mort de son père Louis XIII en **1643**, Louis XIV devient roi de France mais il ne peut gouverner car il n'a pas encore tout à fait **5 ans**. C'est donc sa mère Anne d'Autriche qui dirige le pays, assistée du cardinal **Mazarin**. La reine devient donc **régente** durant cette période.



3/ Faux : l'Édit de Nantes a mis fin aux guerres de religions en reconnaissant la liberté aux **Protestants** de pratiquer leur religion.

4/

L'Édit de Nantes fut promulgué le 13 avril 1598...
...par le roi Henri IV.

À partir de 1682, Louis XIV décide...
...de diriger son royaume depuis le château de Versailles.

En 1661, Louis XIV (presque 23 ans) décide...
...de gouverner seul sans prendre de ministre principal.

Louis XIV impose...
...l'obéissance et contrôle tous les ordres et les courants d'opinion.

Dans chaque province française...
...il nomme et place un intendant qui gouverne au nom du roi.

L'Édit de Nantes fut révoqué le 18 octobre 1685...
...par le roi Louis XIV.

Sciences Le poivre fuyant (2)- la suite !

J'ai mis un produit sur mon doigt avant de toucher le poivre sur l'eau. Mais quel est ce produit ?

C'est du savon liquide !

Je suis sûre que tu en as à la maison !

Fais des essais, mais attention tu dois demander à tes parents quels produits tu peux utiliser car **certains sont très dangereux**.

Cela marche également avec du liquide vaisselle, du gel douche...

Education artistique :

Arts visuels : Le Caravage



Voici des tableaux du peintre italien du XVIIème siècle, **Le Caravage**.

1/ *Essaye de retrouver ces détails :*



2/ *A ton avis, quel tableau a pour titre « Les tricheurs » ?*

C'est le tableau en haut à gauche, avec les joueurs de cartes.

3/ *Fais un croquis au crayon d'un de ces tableaux.*